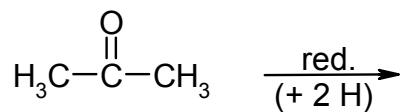
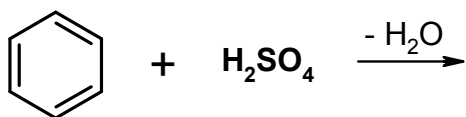
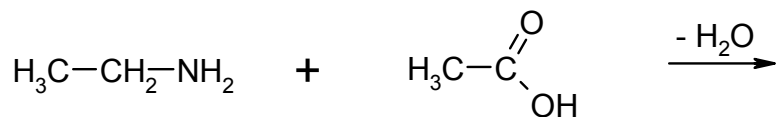
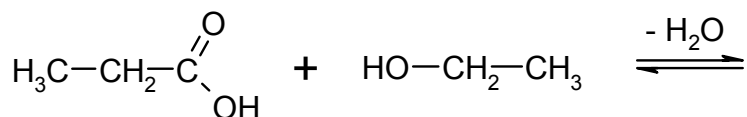


## Gyakorló feladatok (4)

1. Írja fel az alábbi vegyületek gyökcsoportos képletét: dietil-éter, metil-acetát, propanon, hangyasav, 2-propanol, butanal, dimetil-amin, etántiol

2. Egészítse ki a reakcióegyenleteket és nevezze meg a kiindulási anyagokat és a termékeket!



3. Írja fel a hangyasav metanolból történő előállításának reakcióegyenleteit!

4. Milyen a kémhatása egy szekunder amin vizes oldatának?